





Sommer 2020 / Stadtspiel




Schön, dass ihr mitmacht! Schließlich gibt es tolle Preise zu gewinnen! ☺
Hier noch ein paar kurze Informationen zum Spiel:

- Mitzunehmen sind zusätzlich **ein Lineal** (min. 20 cm) **und ein Stift!**
- Für das Beantworten der Fragen müssen keine Privatgrundstücke betreten werden!
- Die Lösung dieses Spiels besteht aus drei Worten!
- Manche Aufgaben haben als Lösung eine Zahl.
Diese Zahl steht dann für den entsprechenden Buchstaben im Alphabet
Also 1 für A / 2 für B / 5 für E 18 für R ...
- Bei jeder Aufgabe ist notiert, wo im Stadtgebiet sie sich befindet (Lage). Wenn ihr einen Blick auf den beigefügten Stadtplan werft, wisst ihr bestimmt wo ihr hin müsst!

	Jetzt geht's los!	Lage	Lösung	Buchstabe
1	<p>Wo steht dieses Haus? Wenn ihr es gefunden habt und Euch umdreht entdeckt ihr gegenüber auch ein Haus mit einem großen Schriftzug. Welcher Buchstabe steht an der vierten Stelle?</p> 	H3		
2	<p>Wisst ihr, wo dieses Bild aufgenommen wurde? Kleiner Tipp – in der Nähe des Bahnhofes!</p>  <p>Wenn ihr den Ort gefunden habt, an dem das Bild aufgenommen wurde, entdeckt ihr in unmittelbarer Nähe einige Fahrradständer. Wie viele sind es?</p>	C2		

3	<p>Wo findet ihr diesen Blick?</p>  <p>Wenn ihr den Ort entdeckt habt findet ihr in der Nähe eine Tafel, auf der Gebäude und Orte in Zwingenberg näher beschrieben sind. Wie viele sind es?</p>	C5		
4	<p>In welchem Jahr wurde die Wand der Bahn-Unterführung „Wiesenpromenade“ durch eine Ferienspiel-Aktion mit dem Motto „Weltall“ bemalt? 20 __ Zieht von der Lösung 10 ab!</p>	C7		
5	<p>Wie viele Briefkästen sind an der Scheuergasse 2 zu finden?</p>	G5		
6	<p>In der Nähe des Bürgerbüros steht eine alte Linde. Sie muss von andren Baumstämmen gestützt werden. Wie viele sind das?</p>	H5		
7	<p>Wie viele Lampen befinden sich unmittelbar neben der Eingangstür zum Rathaus?</p>	H5		
8	<p>Gegenüber des Eiscafé Dolomiti geht es in den Keller des Restaurants „Bunter Löwe“. Auf wie vielen Pfosten ist das Geländer befestigt?</p>	H4		
9	<p>Lauft an den Löwenbrunnen und schaut jetzt auf das Haus, in dem sich das Restaurant „Bunter Löwe“ befindet. Wie viele Fenster hat das Haus im Obergeschoss / 1. Stock auf dieser Seite?</p>	H4		
10	<p>Wie viel Zentimeter ist das Landes-Wappen des Standesamtes Zwingenberg breit? (Tipp: Es hängt in der Nähe eines Torbogens!)</p>	I5		
11	<p>Wie viele Öffnungen bzw. Fenster befinden sich in der alten Stadtmauer (vom Stadtpark aus gesehen) vom Rathaus bis zur „Neue Gasse“?</p>  <p>(ähnlich wie diese hier!)</p>	H7		

12	Wie viele Flecken (ohne Beine und Augen!) hat die Giraffe der Kinder-Rutsche auf dem Spielplatz im Stadtpark? Zählt beide Seiten zusammen!	I9		
13	Am neu gestalteten Obertor wurde eine neue, runde Sitzbank montiert. Wie viele Leuchten sind rund um den Platz in den Boden eingelassen?	J13		
14	Welche Hausnummer hat das lange Gebäude gegenüber dem Café Piano am Obertor?	J10		
15	Wie viele Ecken hat der Brunnen am Markplatz? Ihr könnt auch die Bäume zählen! ☺ Beides ergibt dieselbe Summe!	J9		
16	Wann schließt die Stadtbücherei normalerweise dienstags? (wenn keine Sonderöffnungszeiten sind!) __ :00 Uhr	J8		
17	Jetzt geht es zur Bergkirche! Auf dem Weg nach oben kommt ihr an einer alten „ Kaserne “ vorbei. Auf dem schwarzen Schild steht, wann das Fachwerkhaus erbaut wurde. 17 __	K8		
18	Um die Linde neben der evangelischen Bergkirche stehen quadratische Sandsteinpfosten. Wie viele sind das?	K8		
19	Hinter der Kirche verläuft eine schmale Straße. Wie viele Straßenlampen stehen in dieser Straße? (Tipp: ihr dürft durch das Tor gehen!)	L7		
20	Wie viele Treppen-Stufen muss man gehen um über den Fußweg vom Berg an das blaue Tor zur Jugendherberge zu kommen?	M7		
21	Der Ausgang zum Turm an der Aul ist mit einem Tor verschlossen. Über diesem Holztor ist eine Zahl in den Sandstein gemeißelt. Rechnet alle vier Zahlen zusammen! Was ergibt die Summe?	L5		
22	Lauft durch die Aul (das Tor) Richtung Weinberge! In der Nähe des großen N (Nibelungensteig) gibt es eine große Tafel mit vielen Vögeln. Welche Nummer trägt der „Zaunkönig“ auf dieser Tafel?	N4		
23	Lauft wieder zurück durch die Aul und dann rechts die Treppen runter zur Wetzbach. Welches Tier ist auf dem Haus mit der Hausnummer 11 abgebildet? Der erste Buchstabe des Tieres ist die Lösung!	J4		
24	Wie viele ausgewiesene Behinderten-Parkplätze gibt es an der Sparkassen-Filiale?	H11		
25	Im Schulhof der Melibokus-Schule wurden neue Spiele auf den Boden gemalt! Schaut Euch die Schnecke an. Welches ist die höchste Zahl auf einem grünen Spielfeld?	F10		
26	Und wie viele schwarze Punkte hat der Marienkäfer auf dem grünen Blatt?	F10		
27	Wie viele runde Beton-Sitzsteine befinden sich vor dem Eingang zur Melibokushalle?	E11		

Jetzt seid ihr am Ende des Stadtspiels angekommen. Wir hoffen es hat Euch Spaß gemacht und ihr habt vielleicht das ein oder andere entdeckt, was ihr vorher nicht kanntet.

Trennt die Teilnahmekarte ab und, tragt den Namen Eurer Familie und Eure Adresse ein, schreibt Eure Lösung drauf und werft den Zettel bei **Familie Keil, Passwiese 20**, in den Briefkasten!
(Das Haus der Familie Keil steht ganz in der Nähe der letzten Aufgabe und hat eine Markierung auf dem Briefkasten!)

Wir hoffen, ihr gewinnt einen der tollen Gutscheine und wir freuen uns auf das nächste Wiedersehen!

Herzliche Grüße

Euer CVJM-Zwingenberg